



**MASTER QUESTION PAPER WITH KEY**

Exam Code : SSC\_MAT\_26032017

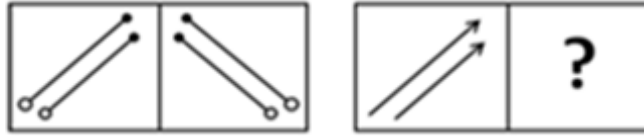
Exam Date : 26-Mar-2017

Duration : 60

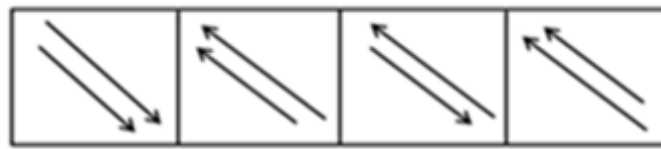
Exam Time : 2:00 pm

5. उत्तर चित्रों में से एक उपयुक्त चित्र का चयन करें जो प्रश्न चिन्ह (?) की जगह लेगा।

**प्रश्न चित्र**



**उत्तर चित्रों**



P

Q

R

S

A.	P	B.	Q
C.	R	D.	S

**Answer Key - B**

**MASTER QUESTION PAPER WITH KEY**

Exam Code : SSC\_MAT\_26032017

Exam Date : 26-Mar-2017

Duration : 60

Exam Time : 2:00 pm

6. उत्तर चित्रों में से एक उपयुक्त चित्र का चयन करें जो प्रश्न चिन्ह (?) की जगह लेगा।

**प्रश्न चित्र**



**उत्तर चित्रों**



P

Q

R

S

A.	P	B.	Q
C.	R	D.	S

**Answer Key - C**

7. विषम चुनें।

A. क्रिकेट

B. बेसबॉल

C. फुटबॉल

D. विलियडर्स

**Answer Key - D**

**MASTER QUESTION PAPER WITH KEY**

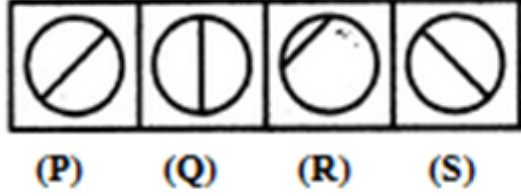
Exam Code : SSC\_MAT\_26032017

Exam Date : 26-Mar-2017

Duration : 60

Exam Time : 2:00 pm

8. इन चार चित्रों में से, तीन चित्रों में कुछ तत्व एक समान हैं और एक चित्र के तत्व भिन्न हैं। उस भिन्न तत्व वाले चित्र का चयन करें।



A.	P	B.	Q
C.	R	D.	S

**Answer Key - C**

9. कौन सा शब्द आपस में सर्वाधिक संबंधित है?

चाय : पत्तियां :: कॉफी : ?

A. पत्तियां

B. पेय पदार्थ

C. उत्तेजक पदार्थ

D. फलियां

**Answer Key - D**

10. 'जनसंख्या विशेषज्ञ' का संबंध 'व्यक्तियों' से है। इसी प्रकार टिकटों के संग्रहकर्ता का संबंध \_\_\_\_\_ से है।

A. रूढ़िवादी

B. स्टैम्पस

C. फोटोग्राफी

D. संगीत

**Answer Key - B**

## MASTER QUESTION PAPER WITH KEY

Exam Code : SSC\_MAT\_26032017

Exam Date : 26-Mar-2017

Duration : 60

Exam Time : 2:00 pm

11 . अनूप ने दक्षिण की ओर चलना शुरू किया । 15 मीटर चलने के पश्चात वह उत्तर की ओर मुड़ गया । 20 मीटर चलने के पश्चात वह पूर्व की ओर मुड़ गया तथा 10 मीटर चला । इसके पश्चात वह दक्षिण की ओर मुड़कर 5 मीटर चला । इस प्रकार वह अपने मूल स्थान से कितना दूर और किस दिशा में है?

A. 10 मीटर, उत्तर

B. 10 मीटर, दक्षिण

C. 10 मीटर, पश्चिम

D. 10 मीटर, पूर्व

**Answer Key - D**

12 . चिमूर गांव रेवा गांव के उत्तर में 20 किलोमीटर पर स्थित है । राहाते गांव रेवा गांव के पूर्व में 18 किलोमीटर पर स्थित है । आंगने गांव चिमूर के पश्चिम में 12 किलोमीटर पर स्थित है । यदि संजय राहाते गांव से चलकर आंगने गांव पहुंचे तो वह अपने प्रारम्भ स्थल से किस दिशा में होगा?

A. उत्तर

B. उत्तर पश्चिम

C. दक्षिण

D. दक्षिण पूर्व

**Answer Key - B**

13 . मुकेश का कद सुरेश से अधिक है परन्तु राकेश से कम है । राकेश हरीश से लम्बा है परन्तु अमर से छोटा है । कद के अनुसार इन सब में सबसे कम कद किसका है?

A. मुकेश

B. सुरेश

C. हरिष

D. निर्धारण नहीं किया जा सकता

**Answer Key - D**

14 . निम्नलिखित को यौक्तिक क्रम में व्यवस्थित करें। 1. दंड 2. कारावास 3. गिरफ्तारी 4. अपराध 5. न्याय

A. 5, 1, 2, 3, 4

B. 4, 3, 5, 2, 1

C. 4, 3, 5, 1, 2

D. 2, 3, 1, 4, 5

**Answer Key - C**

**MASTER QUESTION PAPER WITH KEY**

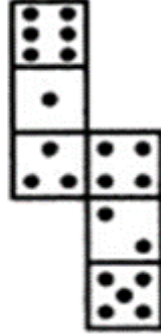
Exam Code : SSC\_MAT\_26032017

Exam Date : 26-Mar-2017

Duration : 60

Exam Time : 2:00 pm

- 15 . प्रदत्त आकृति को एक घन के रूप में फोल्ड करने पर तीन बिंदु वाले पृष्ठ के सामने कितने बिंदु होंगे?



A.	2	B.	4
C.	5	D.	6

**Answer Key - D**

**MASTER QUESTION PAPER WITH KEY**

Exam Code : SSC\_MAT\_26032017

Exam Date : 26-Mar-2017

Duration : 60

Exam Time : 2:00 pm

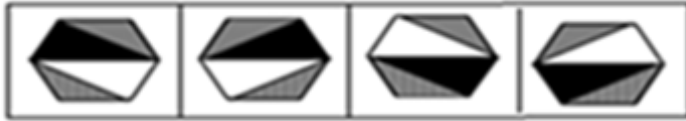
16 . वह विकल्प चुनिए जो प्रदत्त संयोजन के जल-चित्र के लगभग समरूप है।

समस्या चित्र



X

उत्तर चित्र



P

Q

R

S

A.	P	B.	Q
C.	R	D.	S

**Answer Key - 0**

17 . कौन सा अक्षर आपस में सर्वाधिक संबंधित है? BYVE : GTQJ :: CXUF : ?

A. HSQJ

B. IROL

C. HSPK

D. GTRI

**Answer Key - C**

18 . श्रृंखला को पूरा करें: Z, S, W, O, T, K, Q, G, (...), (...)

A. N, D

B. N, C

C. O, D

D. O, C

**Answer Key - B**

**MASTER QUESTION PAPER WITH KEY**

Exam Code : SSC\_MAT\_26032017

Exam Date : 26-Mar-2017

Duration : 60

Exam Time : 2:00 pm

19 . श्रृंखला को पूरा करें: ELFA, GLHA, ILJA, (...), MLNA

A. OLPA

B. KLMA

C. LLMA

D. KLLA

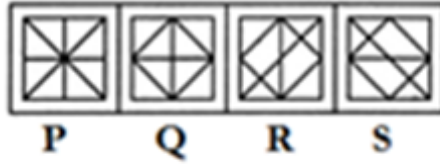
**Answer Key - D**

20 . दिए गए उत्तर चित्रों में से, एक ऐसे चित्र का चयन करें जिसमें समस्या चित्र को छिपाया/एम्बेड किया गया है:

समस्या चित्र



उत्तर चित्र



A.	P	B.	Q
C.	R	D.	S

**Answer Key - A**



**MASTER QUESTION PAPER WITH KEY**

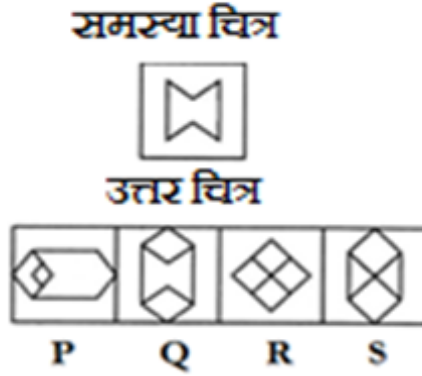
Exam Code : SSC\_MAT\_26032017

Exam Date : 26-Mar-2017

Duration : 60

Exam Time : 2:00 pm

- 21 . दिए गए उत्तर चित्रों में से, एक ऐसे चित्र का चयन करें जिसमें समस्या चित्र को छिपाया/एम्बेड किया गया है:



A.	P	B.	Q
C.	R	D.	S

**Answer Key - B**

- 22 . यदि BROWN का कोड ZPMUL है तो VIOLET का कोड-

A. TGMJCR

B. SGMJCO

C. TGMJCO

D. TGWCQZ

**Answer Key - A**

- 23 . यदि BEAT को GIDV लिखा जा सकता है तो SOUP को ----- लिखा जा सकेगा ।

A. YSXR

B. ZSYS

C. XSYS

D. XSXR

**Answer Key - D**

**MASTER QUESTION PAPER WITH KEY**

Exam Code : SSC\_MAT\_26032017

Exam Date : 26-Mar-2017

Duration : 60

Exam Time : 2:00 pm

- 24 . निम्नलिखित जानकारी को सावधानी से पढ़ें और नीचे दिए गए सवालों के जवाब दें।

छः लड़कियां एक घरे में बैठी हैं । सोनिया राधिका के सामने बैठी है । पूनम राधिका के दाईं ओर है परन्तु दीप्ति बाईं ओर है । मोनिका राधिका के बाईं ओर बैठी है । कामिनी सोनिया की दाईं ओर तथा मोनिका की बाईं ओर बैठी हुई है । अब दीप्ति और कामिनी ने मोनिका तथा राधिका के साथ अपनी स्थिति बदल ली है ।

अब बताएं कि सोनिया के सामने कौन बैठी है?

A.	राधिका	B.	मोनिका
C.	कामिनी	D.	सोनिया

**Answer Key - B**

**MASTER QUESTION PAPER WITH KEY**

Exam Code : SSC\_MAT\_26032017

Exam Date : 26-Mar-2017

Duration : 60

Exam Time : 2:00 pm

- 25 . निम्नलिखित जानकारी को सावधानी से पढ़ें और नीचे दिए गए सवालों के जवाब दें।

छः लड़कियां एक घरे में बैठी हैं । सोनिया राधिका के सामने बैठी है । पूनम राधिका के दाईं ओर है परन्तु दीप्ति बाईं ओर है । मोनिका राधिका के बाईं ओर बैठी है । कामिनी सोनिया की दाईं ओर तथा मोनिका की बाईं ओर बैठी हुई है । अब दीप्ति और कामिनी ने मोनिका तथा राधिका के साथ अपनी स्थिति बदल ली है ।

कामिनी की बाईं ओर कौन बैठी है ?

A.	पूनम	B.	दीप्ति
C.	राधिका	D.	सोनिया

**Answer Key - A**

- 26 . Choose the correct synonym of the given word from the options given below. INDOLENT

- A. Active  
B. Lethargic  
C. Stubborn  
D. Diligent

**Answer Key - B**

- 27 . Choose the correct synonym of the given word from the options given below. SENSUOUS

- A. Delicious  
B. Passionate  
C. Abundant  
D. Imposing

**Answer Key - B**

**MASTER QUESTION PAPER WITH KEY**

Exam Code : SSC\_MAT\_26032017

Exam Date : 26-Mar-2017

Duration : 60

Exam Time : 2:00 pm

**28 .** Choose the correct synonym of the given word from the options given below. CONTRADICT

- |             |            |
|-------------|------------|
| A. Predict  | B. Support |
| C. External | D. Oppose  |

**Answer Key - D**

**29 .** Choose the correct antonym of the given word from the options given below.  
EXTRAVAGANT

- |                  |                  |
|------------------|------------------|
| A. Miserly       | B. Uneconomical  |
| C. Compassionate | D. Narrow-minded |

**Answer Key - A**

**30 .** Choose the correct antonym of the given word from the options given below. DORMANT

- |           |              |
|-----------|--------------|
| A. Active | B. Dreamy    |
| C. Asleep | D. Invisible |

**Answer Key - A**

**31 .** Choose the correct antonym of the given word from the options given below. CIRCUITOUS

- |              |            |
|--------------|------------|
| A. Straight  | B. Certain |
| C. Tenacious | D. Quick   |

**Answer Key - A**

**32 .** Complete the sentence using the most appropriate word from the options given. Kumar \_\_\_\_\_ avoids playing tennis on weekdays as it is very tiring.

- |            |            |
|------------|------------|
| A. Rarely  | B. Usually |
| C. Greatly | D. Highly  |

**Answer Key - B**

**33 .** Choose the appropriate word to complete the sentence. If you are late to the meeting, it will be really difficult to \_\_\_\_\_ the subjects which have been discussed.

- |              |                  |
|--------------|------------------|
| A. Look for  | B. Catch up with |
| C. Play down | D. Drop in       |

**Answer Key - B**

**MASTER QUESTION PAPER WITH KEY**

Exam Code : SSC\_MAT\_26032017

Exam Date : 26-Mar-2017

Duration : 60

Exam Time : 2:00 pm

**34 .** Choose the appropriate word to complete the sentence. The day was extremely hot and in no time, my back was drenched with \_\_\_\_\_.

A. Prickly heat

B. Perspiration

C. Sores

D. Fatigue

**Answer Key - B**

**35 .** Choose from the four options, the word that best substitute the given phrase. Author's explanatory remarks at the beginning of a book.

A. Foreword

B. Biography

C. Preface

D. Bibliography

**Answer Key - C**

**36 .** Choose from the four options, the word that best substitutes the given phrase. Art of growing flowers, fruits and vegetables.

A. Horticulture

B. Landscaping

C. Bonsai

D. Plantation

**Answer Key - A**

**37 .** Choose the MISSPELT word.

A. Lesion

B. Lessee

C. Lessar

D. Lesser

**Answer Key - C**

**38 .** Choose the MISSPELT word.

A. Crescent

B. Express

C. Domineer

D. Ferous

**Answer Key - D**

**39 .** The following sentence has four parts marked P, Q, R and S. Choose the part of sentence with the error and mark as your answer. If there is no error, mark 'No error (S)' as your answer.

He went on committing crime after crime (P)/ and in spite of my best efforts (Q)/ I could not prevent him to do so (R)/ No error (S)

A. P

B. Q

C. R

D. S

**Answer Key - C**

**MASTER QUESTION PAPER WITH KEY**

Exam Code : SSC\_MAT\_26032017

Exam Date : 26-Mar-2017

Duration : 60

Exam Time : 2:00 pm

40 . Choose the correct word/phrase to complete the following sentence. The plane bound for Delhi \_\_\_\_\_ in another ten minutes.

A. Left

B. Has left

C. Leaves

D. Is leaving

**Answer Key - D**

41 . Choose the correct tense from the given options to complete the sentence. Geetha \_\_\_\_\_ to the United Kingdom last week.

A. Go

B. Went

C. Has go

D. Was going

**Answer Key - B**

42 . Complete the sentence using the most appropriate word from the options given. Shweta has \_\_\_\_\_ in Chennai all her life.

A. Lives

B. Living

C. Lived

D. Been lived

**Answer Key - C**

43 . Rewrite the sentence in passive voice.

She will have fed these children.

A. These children was been fed by her

B. These children will have been fed by her

C. These children will have been feed by her

D. These children will be fed by her

**Answer Key - B**

44 . Rewrite the sentence in passive voice.

The postman delivers letters.

A. Letters are delivered by the postman

B. Letters will delivered by the postman

C. Letters have delivered by the postman

D. Letters had delivered by the postman

**Answer Key - A**

45 . Rewrite the sentence in Indirect speech.

The captain said, 'Hurrah! We have won the match.'

A. The captain exclaimed with joy that they had won the match

B. The captain exclaimed that they won the match

C. The captain exclaimed with joy that we had won the match

D. The captain exclaimed that we had won the match

**Answer Key - A**

**MASTER QUESTION PAPER WITH KEY**

Exam Code : SSC\_MAT\_26032017

Exam Date : 26-Mar-2017

Duration : 60

Exam Time : 2:00 pm

46 . Rewrite the sentence in Indirect speech.

He said, 'Yes, I am at fault.'

A. He admitted that he was at fault

B. He forbade that he was at fault

C. He asked that he is at fault

D. He admitted that he were at fault

**Answer Key - A**

47 . Choose the one that best expresses the meaning of the idiom/phrase for the given sentence.  
It was on 'the tip of my tongue' when you also proposed that we should go to the auditorium.

A. Slip of tongue

B. To be annoyed

C. About to say

D. None of these

**Answer Key - C**

48 . Choose the meaning of the given idiomatic expression from the options given in quotes.  
He 'did me a good turn' by recommending me for the post of Vice-Principal.

A. Returned my kindness

B. Did an act of kindness

C. Improved my prospects

D. Became suddenly good

**Answer Key - B**

49 . In the following question, a part of the sentence is given in quotes. Out of the four options which follow, choose the correct option which may improve the sentence. In case no improvement is required, choose "No Improvement" option and mark accordingly.

'What happens to' all those travellers on the ship was not known.

A. What happen to

B. That is what happens to

C. What happened to

D. No improvement

**Answer Key - C**

50 . In the following question, a part of the sentence is given in quotes. Out of the four options which follow, choose the correct option which may improve the sentence. In case no improvement is required, choose "No Improvement" option and mark accordingly. 'Despite of their' differences on matters of principles, they all agree on the demand of hike in salary.

A. Despite of there

B. Despite for their

C. Despite their

D. No improvement

**Answer Key - C**

51 . यदि  $(12)^3$  को एक संख्या के वर्ग से घटाया जाए तो प्राप्त उत्तर 976 है। संख्या कितनी है?

A. 52

B. 54

C. 56

D. 58

**Answer Key - A**

**MASTER QUESTION PAPER WITH KEY**

Exam Code : SSC\_MAT\_26032017

Exam Date : 26-Mar-2017

Duration : 60

Exam Time : 2:00 pm

52 . किसी संख्या को, उस संख्या के दो तिहाई में जोड़ने पर 35 प्राप्त होता है। वह संख्या--- है

A. 19

B. 20

C. 21

D. 22

**Answer Key - C**

53 . 
$$\left( \frac{\sqrt{625}}{11} \times \frac{14}{\sqrt{25}} \times \frac{11}{\sqrt{196}} \right) =$$

A.	5	B.	6
C.	8	D.	11

**Answer Key - A**



**MASTER QUESTION PAPER WITH KEY**

Exam Code : SSC\_MAT\_26032017

Exam Date : 26-Mar-2017

Duration : 60

Exam Time : 2:00 pm

54 .  $\frac{1}{0.04}$  बराबर है-

A.	$\frac{1}{40}$	B.	$\frac{2}{5}$
C.	2.5	D.	25

**Answer Key - D**

55 . 4.036 को 0.04 से भाग देने पर प्राप्त होगा-

A. 1.009

B. 10.09

C. 100.9

D. इनमें से कोई नहीं

**Answer Key - C**

56 .  $5 + 10 + 15 + 20 + \dots + 100 = ?$

A. 820

B. 850

C. 1050

D. 2100

**Answer Key - C**

**MASTER QUESTION PAPER WITH KEY**

Exam Code : SSC\_MAT\_26032017

Exam Date : 26-Mar-2017

Duration : 60

Exam Time : 2:00 pm

57 . एक संख्या के मान के दो बटा सात भाग में एक संख्या जोड़ने पर यह 72 के बराबर होता है। संख्या ज्ञात करें।

- A. 56  
B. 66  
C. 76  
D. 86

**Answer Key - A**

58 . एक परीक्षा में 38% छात्र अंग्रेजी में अनुत्तीर्ण हुए और 61% हिंदी में उत्तीर्ण हुए और 23% दोनों में अनुत्तीर्ण हुए। वास्तविक अनुत्तीर्ण छात्रों का प्रतिशत ज्ञात करें।

- A. 50%  
B. 54%  
C. 61%  
D. 65%

**Answer Key - B**

59 . 3 : 7 के अनुपात के प्रत्येक पद से क्या घटाया जाना चाहिए कि अनुपात 1 : 3 बन जाए?

- A. 1  
B. 2  
C. 3  
D. 4

**Answer Key - A**

60 . 12 नतीजों में से 11 का औसत 32 है। अगर प्रथम 6 नतीजों का औसत 34 हो, और अन्तिम छह का 33, बताएँ 12वाँ नतीजा क औसत क्या है?

- A. 50  
B. 65  
C. 60  
D. 55

**Answer Key - A**

61 . 3 के प्रथम सात गुणजों का औसत--- है।

- A. 6  
B. 9  
C. 12  
D. 15

**Answer Key - C**

62 . कितने प्रतिशत साधारण ब्याज दर से कोई धनराशि, 20 वर्षों में दोगुनी हो जाएगी?

- A. 4%  
B. 5%  
C. 6%  
D. 8%

**Answer Key - B**

63 . रु. 15000 पर 8% वार्षिक चक्रवृद्धि ब्याज अर्धवार्षिक जोड़े जाने पर 1 वर्ष में\_\_\_\_\_ हो जाएगा ।

- A. रु. 1200  
B. रु. 1224  
C. रु. 1432  
D. रु. 1500

**Answer Key - B**

**MASTER QUESTION PAPER WITH KEY**

Exam Code : SSC\_MAT\_26032017

Exam Date : 26-Mar-2017

Duration : 60

Exam Time : 2:00 pm

64 . 15 पेनों का क्रय मूल्य, 12 पेनों के विक्रय से प्राप्त हो जाता है। प्रतिशत लाभ ज्ञात करें।

A. 16.50%

B. 20%

C. 25%

D. 40%

**Answer Key - C**

65 . यदि किसी वस्तु को रु 178 में बेचे जाने पर 11% की हानि होती हो तो 11% का लाभ अर्जित करने के लिए उसका विक्रय मूल्य क्या होना चाहिए?

A. रु. 220

B. रु. 220.50

C. रु. 222

D. रु. 267

**Answer Key - C**

66 . 1260 रुपये के एक बिल पर 6 महीने पहले 10% प्रति वर्ष की दर से सही छूट क्या है?

A. रु. 60

B. रु. 80

C. रु. 160

D. रु. 260

**Answer Key - A**

67 . 6 मी आधार और 6.5 मी विकर्ण वाले समकोण त्रिभुज का क्षेत्रफल होगा:

A. 6.5 मी<sup>2</sup>

B. 7.5 मी<sup>2</sup>

C. 8.5 मी<sup>2</sup>

D. 9.5 मी<sup>2</sup>

**Answer Key - B**

68 . अगर किसी त्रिकोण के एक कोण का विभाजक विपरीत भुजा को विभाजित करता है तो वह कोण है:

A. विषमभुज

B. समद्विबाहु

C. समकोण

D. समबाहु

**Answer Key - 0**

69 . एक रेलगाड़ी, एक व्यक्ति को 10 सेकेंड में पार कर जाती है, किंतु एक 200 मी. लंबे पुल को 18 सेकेंड में पार करती है। रेलगाड़ी की चाल--- है।

A. 60 किमी/घंटे

B. 75 किमी/घंटे

C. 90 किमी/घंटे

D. 105 किमी/घंटे

**Answer Key - C**

70 . एक 135 मी लंबी ट्रेन 54 किमी प्रति घंटा की चाल से चल रही है। वह एक टेलीग्राफ के खंभे को कितने समय में पार कर लेगी?

A. 7 सेकंड

B. 9 सेकंड

C. 11 सेकंड

D. 12 सेकंड

**Answer Key - B**

**MASTER QUESTION PAPER WITH KEY**

Exam Code : SSC\_MAT\_26032017

Exam Date : 26-Mar-2017

Duration : 60

Exam Time : 2:00 pm

- 71 . यदि 3 श्रमिक 4 दिनों में 48 किग्रा. कपास एकत्र करते हैं तो 9 श्रमिक 2 दिनों में कितने किग्रा. कपास एकत्र करेंगे?  
 A. 32  
 B. 72  
 C. 108  
 D. 216

**Answer Key - B**

- 72 . एक सिस्टर्न सामान्यतः 8 घंटे में भरता है किन्तु इसके तले में एक छिद्र होने के कारण इसे भरने में दो घंटे अधिक लगते हैं। यदि सिस्टर्न पूरा भरा हो तो यह \_\_\_\_\_ में रिसकर खाली हो जाएगा।  
 A. 16 घंटे  
 B. 20 घंटे  
 C. 25 घंटे  
 D. 40 घंटे

**Answer Key - D**

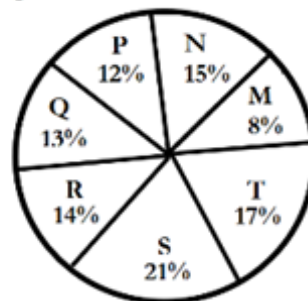
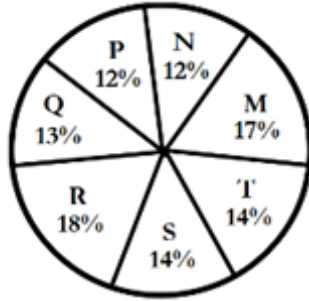
- 73 . निम्नलिखित रूप से नीचे दी गई चार्ट का अध्ययन करें और सावधानीपूर्वक प्रश्नों का उत्तर दें।

**सात संस्थानों M, N, P, Q, R, S और T में स्नातक और परास्नातक**

**स्तरों के छात्रों का वितरण**

स्नातक स्तर पर छात्रों की कुल संख्या= 27300

परास्नातक स्तर पर छात्रों की कुल संख्या = 24700



M और S संस्थानों के कितने छात्र स्नातक स्तर पर अध्ययन कर रहे हैं?

A.	7516	B.	8463
C.	9127	D.	9404

**Answer Key - B**

**MASTER QUESTION PAPER WITH KEY**

Exam Code : SSC\_MAT\_26032017

Exam Date : 26-Mar-2017

Duration : 60

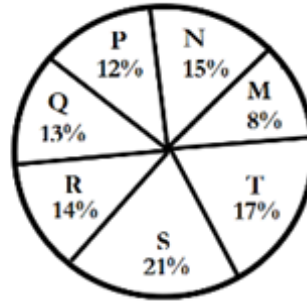
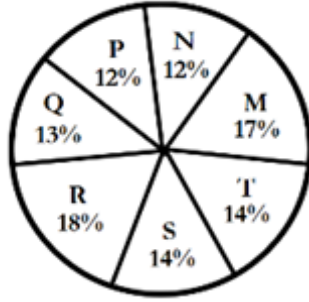
Exam Time : 2:00 pm

- 74 . निम्नलिखित रूप से नीचे दी गई चार्ट का अध्ययन करें और सावधानीपूर्वक प्रश्नों का उत्तर दें।

सात संस्थानों M, N, P, Q, R, S और T में स्नातक और परास्नातक स्तरों के छात्रों का वितरण

स्नातक स्तर पर छात्रों की कुल संख्या= 27300

परास्नातक स्तर पर छात्रों की कुल संख्या = 24700



संस्थानों N और P में परास्नातक स्तर पर अध्ययनरत छात्रों की कुल संख्या \_\_\_\_\_ है ।

A.	5601	B.	5944
C.	6669	D.	7004

Answer Key - C

**MASTER QUESTION PAPER WITH KEY**

Exam Code : SSC\_MAT\_26032017

Exam Date : 26-Mar-2017

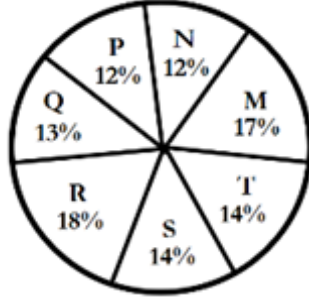
Duration : 60

Exam Time : 2:00 pm

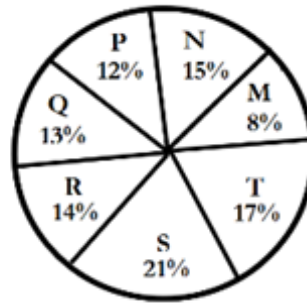
- 75 . निम्नलिखित रूप से नीचे दी गई चार्ट का अध्ययन करें और सावधानीपूर्वक प्रश्नों का उत्तर दें।

**सात संस्थानों M, N, P, Q, R, S और T में स्नातक और परास्नातक स्तरों के छात्रों का वितरण**

स्नातक स्तर पर छात्रों की कुल संख्या= 27300



परास्नातक स्तर पर छात्रों की कुल संख्या = 24700



संस्थान R में स्नातक और परास्नातक स्तर के छात्रों की कुल संख्या कितनी है?

A.	8320	B.	7916
C.	9116	D.	8372

**Answer Key - D**

- 76 . म्यांमार की राजधानी का क्या नाम है?

- A. न्यापीइडौ  
B. यांगून  
C. मंडले  
D. मिकिला

**Answer Key - A**

- 77 . थाईलैंड की मुद्रा है:

- A. पेसो  
B. बाहट  
C. डॉलर  
D. पौंड

**Answer Key - B**

**MASTER QUESTION PAPER WITH KEY**

Exam Code : SSC\_MAT\_26032017

Exam Date : 26-Mar-2017

Duration : 60

Exam Time : 2:00 pm

78 . किस देश ने सर्वाधिक बार फुटबाल विश्व कप जीता है?

- A. इटली  
B. उरुग्वे  
C. पश्चिम जर्मनी  
D. ब्राजील

**Answer Key - D**

79 . वर्ष 2016 में किस क्रिकेटर को अर्जुन पुरस्कार प्रदान किया गया है?

- A. युवराज सिंह  
B. महेन्द्र सिंह धोनी  
C. अजिंक्य रहाणे  
D. रोहित शर्मा

**Answer Key - C**

80 . 'बटरफ्लाई स्ट्रोक' किस खेल से संबंधित है?

- A. तैराकी  
B. मुक्केबाजी  
C. कुश्ती  
D. कबड्डी

**Answer Key - A**

81 . भारत में अंग्रेजी शिक्षा इनके द्वारा लागू की गई:

- A. लॉर्ड डलहौज़ी  
B. लॉर्ड कर्जन  
C. लॉर्ड मैकाले  
D. लॉर्ड रिपन

**Answer Key - C**

82 . हैदराबाद नगर का संस्थापक था-

- A. इब्राहीम कुतुब शाह  
B. मुहम्मद कुली कुतुब शाह  
C. अब्दुल्ला कुतुब शाह  
D. जमशेद कुतुब शाह

**Answer Key - B**

83 . 'डांडिया' कहाँ का प्रसिद्ध नृत्य है?

- A. गुजरात  
B. पंजाब  
C. महाराष्ट्र  
D. तमिलनाडु

**Answer Key - A**

84 . भारत कला भवन म्यूजियम \_\_\_\_\_ में स्थित है।

- A. आगरा  
B. लखनऊ  
C. इलाहाबाद  
D. वाराणसी

**Answer Key - D**

**MASTER QUESTION PAPER WITH KEY**

Exam Code : SSC\_MAT\_26032017

Exam Date : 26-Mar-2017

Duration : 60

Exam Time : 2:00 pm

85 . इनमें से कौन सा शब्द हमारी आकाशगंगा को सबसे अधिक अच्छी तरह परिभाषित करता है?

A. गोलाकार

B. दीर्घ वृत्ताकार

C. सर्पिल

D. बार्ड-स्पायरल

**Answer Key - C**

86 . \_\_\_\_ भारत का सबसे बड़े मैंग्रोव वन है।

A. पिचावाराम

B. पितारा

C. सुंदरबन्स

D. भितरकनिका

**Answer Key - C**

87 . B2B' का विस्तार क्या है?

A. बॉर्डर टू बॉर्डर

B. बिजनेस टू बिजनेस

C. बिजनेस टू बॉर्डर

D. बॉर्डर टू बिजनेस

**Answer Key - B**

88 . भारत की प्रथम महिला मुख्य चुनाव आयुक्त कौन थीं?

A. V.S. रामदेवी

B. सरोजिनी नायडू

C. S.K. बेदी

D. फातिमा बीवी

**Answer Key - A**

89 . पश्चिम बंगाल के वर्तमान मुख्यमंत्री कौन हैं?

A. ममता बनर्जी

B. हरीश रावत

C. चंद्रशेखर राव

D. पवन चामलिंग

**Answer Key - A**

90 . किसी पंचायत के भंग हो जाने पर कितने समय के भीतर चुनाव आयोजित किए जाने चाहिए-

A. 1 महीना

B. 3 महीने

C. 6 महीने

D. 1 साल

**Answer Key - C**

91 . इलेक्ट्रिक जनरेटर का आविष्कार किसने किया?

A. सर अलेक्जेंडर ग्राहम बेल

B. माइकल फैराडे

C. अल्फ्रेड B. नोबेल

D. थॉमस अल्वा एडीसन

**Answer Key - B**



**MASTER QUESTION PAPER WITH KEY**

Exam Code : SSC\_MAT\_26032017

Exam Date : 26-Mar-2017

Duration : 60

Exam Time : 2:00 pm

92 . नोबल पुरस्कार जीतने वाला पहला एशियाई कौन था?

A. C.V. रामन

B. राजीव गांधी

C. रबिन्द्रनाथ दयागुर

D. मदर दिरेसा

**Answer Key - C**

93 . विश्व का सबसे बड़ा संग्राहलय कौन सा है?

A. ब्रिटिश म्यूजियम, लन्दन

B. स्टेट हरमिटेज म्यूजियम, St. पीटर्सबर्ग

C. सालार जंग म्यूजियम, हैदराबाद

D. लौवर, पेरिस

**Answer Key - D**

94 . भारत में ज्ञानपीठ पुरस्कार प्राप्त करने वाली प्रथम महिला कौन थी?

A. महादेवी वर्मा

B. अमृता प्रीतम

C. महास्वेता देवी

D. आशापूर्ण देवी

**Answer Key - D**

95 . उत्तराखण्ड का राज्य पुष्प कौन सा है?

A. ब्रह्मा कमल

B. लिली

C. डाहफोडिल

D. सूरजमुखी

**Answer Key - A**

96 . भारत में स्वामी विवेकानंद के जन्मदिन को किस रूप में मनाया गया -

A. विश्व धार्मिक दिवस

B. राष्ट्रीय युवा दिवस

C. ऑल सेंट्स डे

D. हिंदू पुनर्जागरण दिवस

**Answer Key - B**

97 . विश्व का सबसे छोटा देश कौन-सा है?

A. वेटिकन सिटी

B. मोनाको

C. सैन मैरीनो

D. तुवालु

**Answer Key - A**

98 . विश्व का सर्वोच्च जलप्रपात, 'एंजेल जलप्रपात' कहाँ स्थित है?

A. ऑस्ट्रेलिया

B. स्पेन

C. ब्राज़िल

D. वेनेजुएला

**Answer Key - D**

**MASTER QUESTION PAPER WITH KEY**

Exam Code : SSC\_MAT\_26032017

Exam Date : 26-Mar-2017

Duration : 60

Exam Time : 2:00 pm

99 . भारत के कई शहरों के नाम बदले गए हैं जैसे बड़ौदा का नाम बदलकर \_\_\_\_\_ कर दिया गया है।

A. बड़ोदरा

B. वाराणसी

C. वडोदरा

D. बनारस

**Answer Key - C**

100 . भारतीय सेना द्वारा 6 दिसंबर 2016 को सेना के दिग्गजों और वीर नारियों को समर्पित कौन-सी एंड्रॉइड ऐप लॉन्च की गई?

A. वीर आउटरीच ऐप

B. वेटेरन्स रीचआउट ऐप

C. वेटेरन्स आउटरीच ऐप

D. वेटेरन्स आउटरूट ऐप

**Answer Key - C**